




Föreläsning 4

Reglerteknik AK

©Bo Wahlberg
Avdelningen för Reglerteknik, KTH

8 september, 2016





Introduktion

Förra gången:

- Rotort
- Nyquistkriteriet

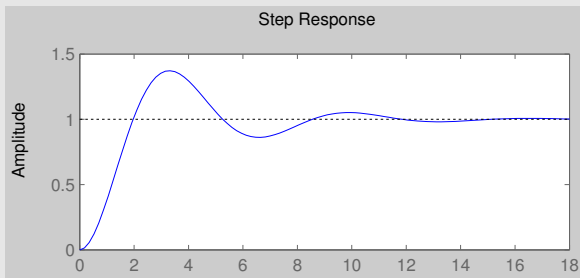
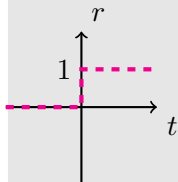
Dagens program:

- Specifikationer
- Frekvenssvar
- Bodediagram

1. Utsignalens förmåga att följa en given referenssignal (servo).

Example (Stegsvar)

Antag att ett steg ges i referenssignalen vid tiden $t = 0$. Härunder syns steget i referenssignalen samt svaret från ett system (som försöker följa steget):





Objektiva prestandamått

Man kan mäta detta med hjälp av bland annat

- *Stigtiden*, $T_r = t_2 - t_1$ där

$$\begin{cases} y(t_2) = 0.9 \\ y(t_1) = 0.1 \end{cases}$$

- *Insvängningstiden*, T_s som definieras av att

$$1 - p \leq y(t) \leq 1 + p \quad \forall t \geq T_s$$

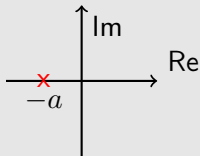
- *Överslängen*, $M = (y_{\max} - 1) \cdot 100\%$.

Example

Antag att

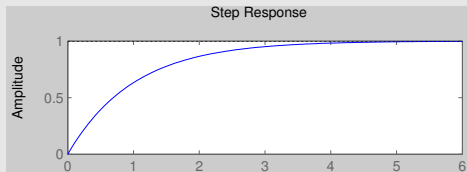
$$G_c(s) = \frac{a}{s + a}$$

Stegsvaret och polplaceringen syns i figurerna (för $a = 1$).



Dessa ger oss

$$\begin{cases} T_r & = \frac{2.2}{a} \\ T_s(5\%) & \approx \frac{3}{a} \\ M & = 0 \end{cases}$$





Objektiva prestandamått

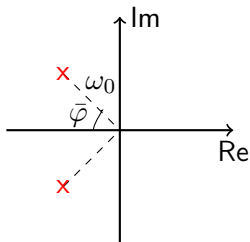
Skriv systems överföringsfunktion på formen

$$G_c(s) = \frac{\omega_0^2}{s^2 + 2\xi\omega_0 s + \omega_0^2}$$

Definera den *relativa dämpningen*, ξ , som

$$\xi \equiv \cos \bar{\varphi}$$

där vinkeln $\bar{\varphi}$ är definierad i figuren (Fig 2.6 i boken) nedan





Objektiva prestandamått

Då ges de ovannämnda prestandamåtten av

$$\begin{cases} T_r = \frac{\text{konstant}}{\omega_0} \\ T_s(5\%) \approx \frac{3}{\omega_0 \xi} \\ M = e^{\frac{\pi \xi}{\sqrt{1-\xi^2}}} \end{cases} \quad (\text{för små } \xi)$$

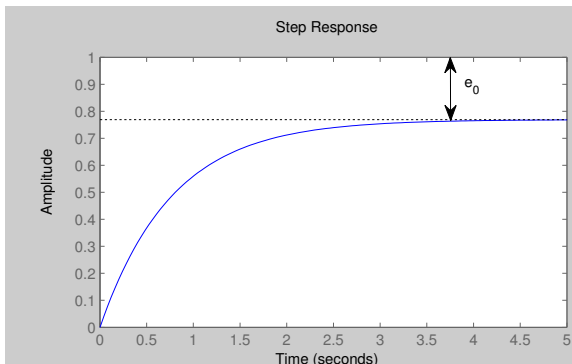
Se boken för härledningar.

Viktigt vid rotortsanalys/-design. \Leftrightarrow *Dominerande poler.*



Objektiva prestandamått

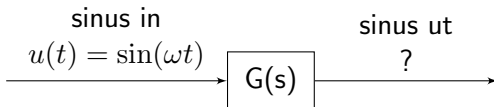
2. Stationärt fel



3. Andra mått som t.ex. störningsundertryckningar (regulatorproblemet).



Frekvenssvar - Stabilt System



$$\implies y(t) = \underbrace{|G(i\omega)|}_{\text{förstärkning}} \cdot \sin [\omega t + \underbrace{\arg G(i\omega)}_{\text{fasvridning}}] + \underbrace{\text{transient}}_{\rightarrow 0 \text{ om stabilt}}$$

Frekvenssvaret ges av $G(i\omega)$.



Bevis

Komplexa tal

$$z = x + iy = r[\cos(\phi) + i \sin(\phi)] = |z|e^{i \arg z}$$
$$|z| = r = \sqrt{x^2 + y^2}, \quad \arg z = \phi = \arctan(y/x)$$

Insignal $u(t) = \sin(\omega t) = \text{Im } e^{i\omega t}$, från $t = -\infty$

Överföringsfkn $G(s) = \int_0^{\infty} g(\tau)e^{-s\tau} d\tau$

Utsignal $y(t) = \int_0^{\infty} g(\tau)u(t - \tau)d\tau$

$$= \text{Im} \int_0^{\infty} g(\tau)e^{i\omega(t-\tau)} d\tau = \text{Im} \int_0^{\infty} g(\tau)e^{-i\omega\tau} d\tau e^{i\omega t}$$
$$= \text{Im } G(i\omega)e^{i\omega t} = \text{Im } |G(i\omega)|e^{i \arg G(i\omega) + i\omega t}$$
$$= |G(i\omega)| \sin(\omega t + \arg G(i\omega))$$



Frekvenssvar

Example

Antag att $G(s) = s$ och att insignalen är $u(t) = \sin(\omega t)$.

$$\implies y(t) = \omega \cos(\omega t) = \omega \sin \left[\omega t + \frac{\pi}{2} \right]$$

Fasvrider: $+90^\circ$

Förstärker: Höga frekvenser mer än låga (med faktor ω)

Example

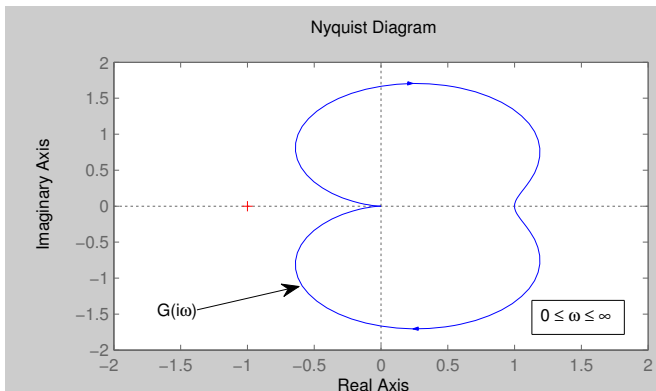
Antag att $G(s) = \frac{1}{s}$ och att insignalen är $u(t) = \sin(\omega t)$.

$$\implies y(t) = -\frac{1}{\omega} \cos(\omega t) + \text{konstant} = \frac{1}{\omega} \sin \left[\omega t - \frac{\pi}{2} \right] + \text{konstant}$$

Fasvrider: -90°

Förstärker: Låga frekvenser mer än höga (med faktor $\frac{1}{\omega}$)

Nyquistdiagram:

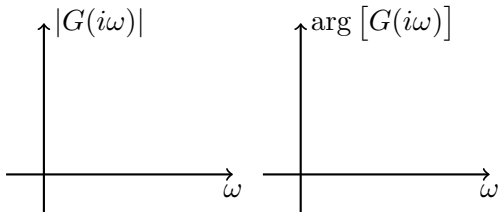


Svårt att avläsa frekvens.



Rita $G(i\omega)$ som funktion av ω

Bodediagram:



Två grafer med ω som variabel på den horisontella axeln och förstärkningen respektive fasvridningen på den vertikala.



Rita $G(i\omega)$ som funktion av ω

Example

Antag att

$$G(s) = \frac{s + b}{s(s + a)} = \underbrace{\frac{b}{a}}_K \frac{1 + \frac{s}{b}}{s(1 + \frac{s}{a})}$$

då är frekvenssvaret givet av

$$G(i\omega) = \frac{K(1 + \frac{i\omega}{b})}{i\omega(1 + \frac{i\omega}{a})}$$



Rita $G(i\omega)$ som funktion av ω

Example (fort.)

Amplitudkurva:

$$\log |G(i\omega)| = \log K + \log \sqrt{1 + \left(\frac{\omega}{b}\right)^2} - \log \omega - \log \sqrt{1 + \left(\frac{\omega}{a}\right)^2}$$

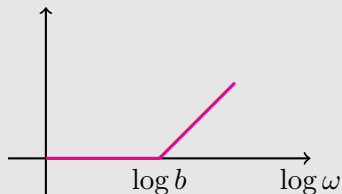
Approximation:

$$\begin{aligned} \log \sqrt{1 + \left(\frac{\omega}{b}\right)^2} &= \frac{1}{2} \log \left[1 + \left(\frac{\omega}{b}\right)^2 \right] \approx \\ &\approx \begin{cases} 0, & \omega < b, \quad \omega \text{ liten} \\ \log \omega - \log b, & \omega \geq b, \quad \omega \text{ stor} \end{cases} \end{aligned}$$



Rita $G(i\omega)$ som funktion av ω

Example (fort.)



Lutningen ökar med $+1 \approx 20$ dB/dekad.

Maximalt fel vid $\omega = b \Rightarrow \frac{1}{2} \log 2 = 0.15 = 3$ dB.



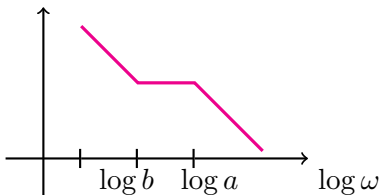
Approximativt Bodediagram

Vi hittar *brytpunkter* vid frekvenserna

$$\omega = b \quad \text{som ger lutning } +1$$

$$\omega = a \quad \text{som ger lutning } -1$$

Om ω liten är lutningen (antal integratorer) -1 .





Approximativt Bodediagram

I praktiken ritas Bodediagram med hjälp av dator.

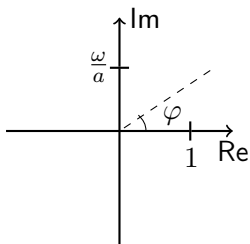
På övningarna är det enklast att beräkna exakta värden vid brytpunkterna och sen några till och interpolera.



Faskurva

Man brukar också rita en faskurva i Bodediagram.

$$\begin{aligned}\arg [G(i\omega)] &= \arg \left[\frac{1 + \frac{i\omega}{b}}{i\omega \left(1 + \frac{i\omega}{a}\right)} \right] = \\ &= \arg \left[1 + \frac{i\omega}{b} \right] - \arg[i\omega] - \arg \left[1 + \frac{i\omega}{a} \right]\end{aligned}$$



$$\varphi = \arctan \left[\frac{\omega}{a} \right]$$



Faskurva

$$\Rightarrow \arg [G(i\omega)] = \arctan\left(\frac{\omega}{b}\right) - 90^\circ - \arctan\left(\frac{\omega}{a}\right)$$

I praktiken ritas även faskurvan med hjälp av en dator.

På övningarna: se amplitudkurva.



Arctan

Kom ihåg att:

- $\arctan(0) = 0^\circ$
- $\arctan(1) = 45^\circ$
- $\arctan(\infty) = 90^\circ$

Minnesregel:

Argumentet är k -värdet för en linje med lutning $\arctan k$.



Komplexa poler

$$G(s) = \frac{\omega_0^2}{s^2 + 2\xi\omega_0s + \omega_0^2}$$

Vi kallar ξ för den *relativa dämpningen* och den antar värden i intervallet $0 < \xi < 1$.

Det finns många formler i boken.



Komplexa poler

Lutning:

$$\begin{cases} \omega \text{ liten} & 0 \\ \omega \text{ stor} & -2 \\ \omega = \omega_0 & \Rightarrow \log |G(i\omega_0)| = \log \frac{1}{2\xi} \end{cases}$$

Liten dämpning \Rightarrow Stor förstärkning av frekvenser nära ω_0 !

Rita noggrant!



Icke-minimumfastsystem

Jämför

$$G_1(s) = \frac{1+s/b}{1+s/a}$$
$$G_2(s) = \frac{1-s/b}{1+s/a}$$

De har samma amplitudkurva:

$$|G_1(i\omega)| = |G_2(i\omega)|$$

Faskurvorna skiljer sig dock:

$$\arg [G_1(i\omega)] = \arctan \frac{\omega}{b} - \arctan \frac{\omega}{a}$$

$$\arg [G_2(i\omega)] = -\arctan \frac{\omega}{b} - \arctan \frac{\omega}{a}$$

dvs.

$$\arg [G_2(i\omega)] < \arg [G_1(i\omega)]$$



Icke-minimumfastsystem

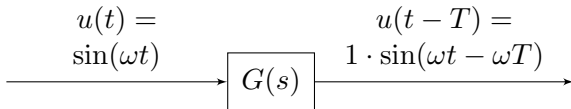
$$\arg [G_2(i\omega)] < \arg [G_1(i\omega)]$$

$\Rightarrow G_2$ fasvrider mer (negativt) än G_1 !

Minimumfas = Alla nollställen och poler i V.H.P.



Tidsfördröjning



$$\implies G(i\omega) = 1 \cdot e^{-i\omega T}$$

$$\implies G(s) = e^{-sT}$$

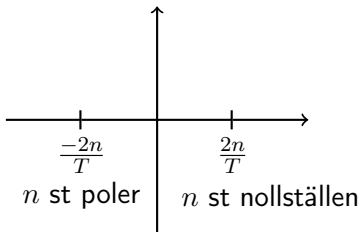
Vi ser att $|G(i\omega)| = 1$ och att $\arg [G(i\omega)] = -\omega T$.

Icke-minimumfas, jämför $G_1 = 1$.



Poler och nollställen

$$e^{-sT} = \left[\frac{e^{-\frac{sT}{2n}}}{e^{+\frac{sT}{2n}}} \right]^n \approx \frac{\left[1 - \frac{sT}{2n} \right]^n}{\left[1 + \frac{sT}{2n} \right]^n}$$





Bodes relation

Bodes relation ger en koppling mellan förstärkning och fas.

Theorem (Bodes relation)

Låt $G(s)$ vara minimumfas och $G(0) > 0$.

Om $|G(i\omega)|$ i ett visst frekvensområde avtar med

$$20\text{dB/dekad} \Rightarrow \arg [G(i\omega)] \approx -90^\circ$$

$$40\text{dB/dekad} \Rightarrow \arg [G(i\omega)] \approx -180^\circ$$

OSV.

För komplexa tal:

$$\log G(i\omega) = \log |G(i\omega)| + i \arg [G(i\omega)]$$