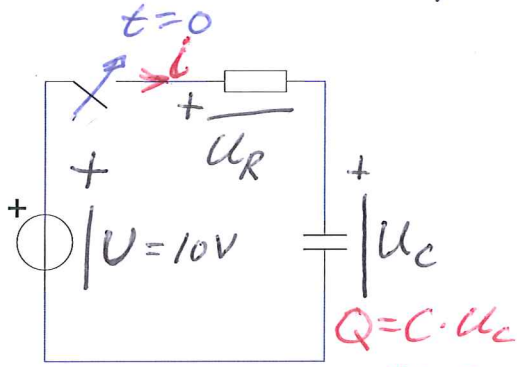


Transienta förlopp = övergångsförlopp



"standardekvation"

$$\frac{du_c}{dt} + \frac{1}{\tau} u_c = \frac{U}{\tau}$$

Lösning till "standardekvation" se ruta 1.32 i boken:

$$u_c = u_\infty - (u_\infty - u_0)e^{-t/\tau}$$

Insättning av lösning i ekv ger

$$\frac{1}{\tau} (u_\infty - u_0)e^{-t/\tau} + \frac{1}{\tau} [u_\infty - (u_\infty - u_0)e^{-t/\tau}] = \frac{U}{\tau}$$

$$\Rightarrow u_\infty = U = 10V$$

u_∞ kallas slutvärdet och är $u_c(\infty) = u_\infty$

Vid $t \rightarrow \infty$ är det transienta förloppet över och u_c är en likspänning dvs $\frac{du_c}{dt} = 0$

och även standardekv. ovan

ger $u_c(\infty) = U$.

Svårast är begynnelsevärdet

$$u_c(0) = u_\infty - (u_\infty - u_0)e^{-0/\tau} = u_0$$

I vårt ex antar vi att kond är oladdad före $t=0$, $t < 0$, $u_c(t < 0) = 0$. Spänningen över

en kondensator kan ej ändras sprängvis då blir ju $i = \infty$ enligt *.

$$\Rightarrow u_0 = u(t < 0) = 0.$$

vid $t = \tau$ blir

$$u_c(\tau) = 10V - (10V - 0V)e^{-\tau/\tau} =$$

$$= \underbrace{(1 - e^{-1})}_{0,63} 10V = 6,3V$$

U-lag:

$$U - U_R - U_C = 0$$

$$U - Ri - U_C = 0$$

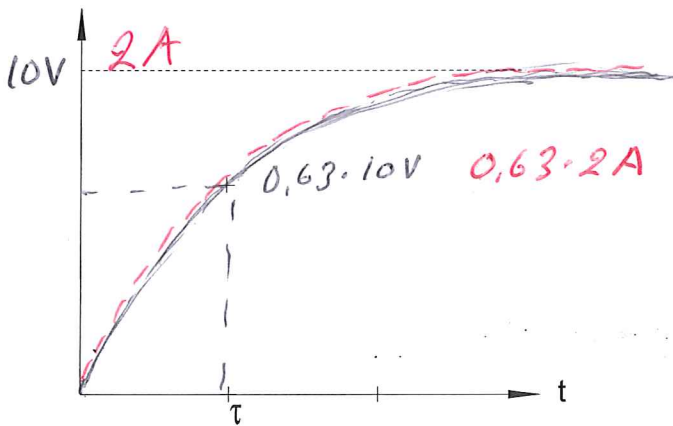
$$U - RC \frac{du_c}{dt} - u_c = 0$$

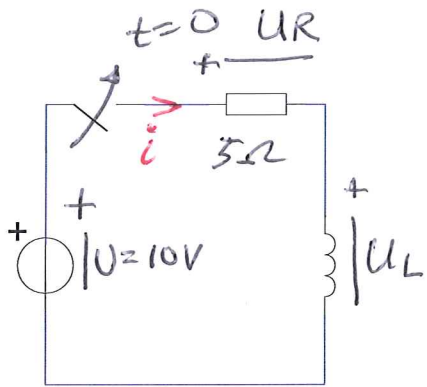
$$\Rightarrow \frac{du_c}{dt} + \frac{1}{RC} u_c = \frac{U}{RC}$$

$\tau = RC$ tidkonstant

Om $R = 10k\Omega$ och $C = 1\mu F$

$$\Rightarrow \tau = 10ms$$





$$U_L = L \frac{di}{dt} \quad **$$

$$U - U_R - U_L = 0$$

$$U - Ri - L \frac{di}{dt} = 0$$

$$\frac{di}{dt} + \left(\frac{R}{L}\right)i = \left(\frac{R}{L}\right)\frac{U}{R} \quad \text{standard ekv } i \text{ istf } U$$

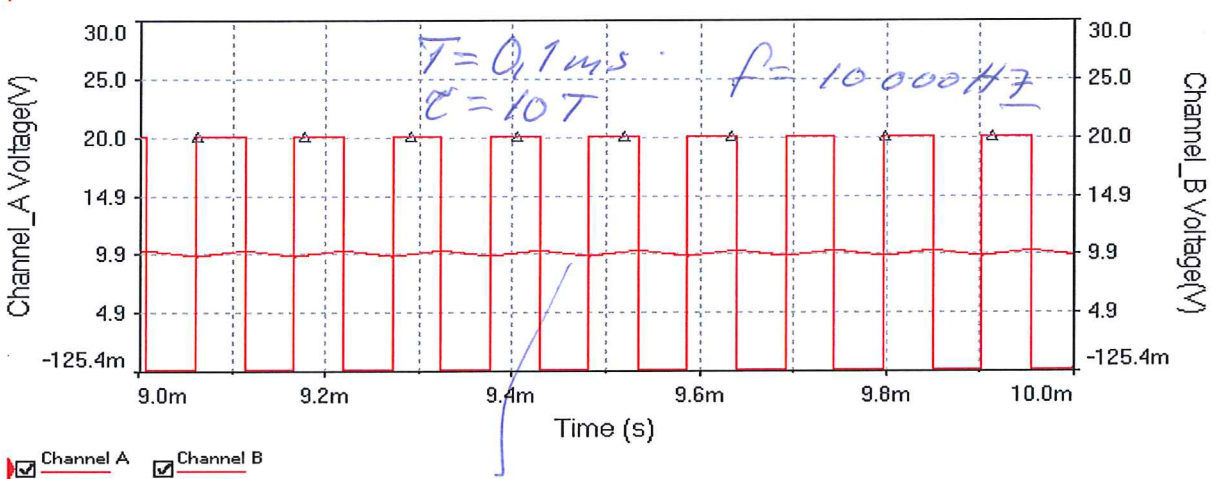
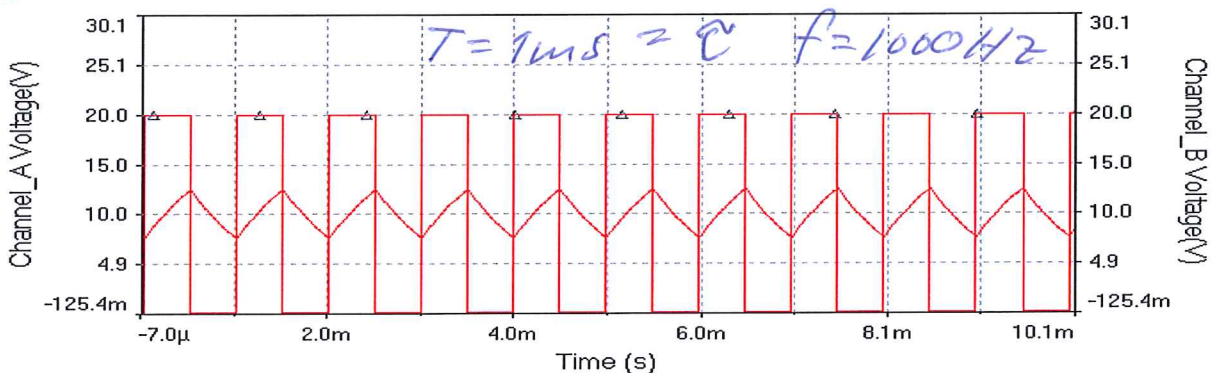
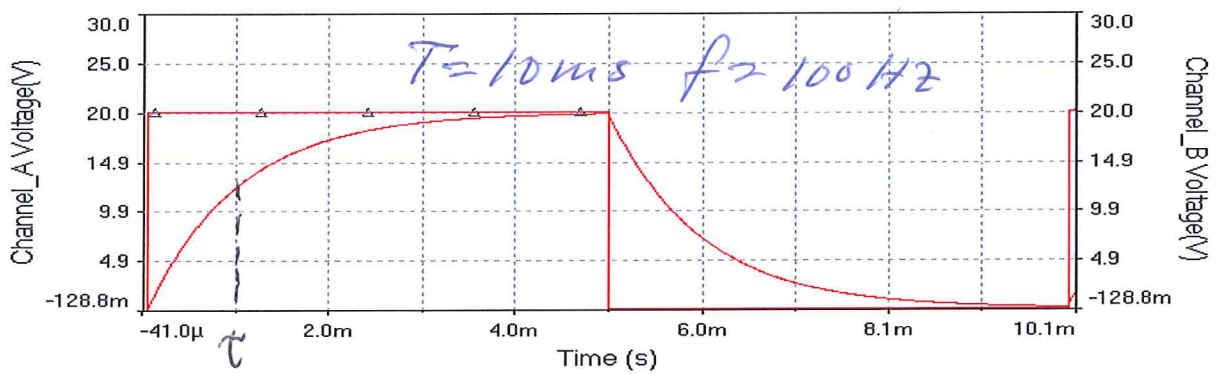
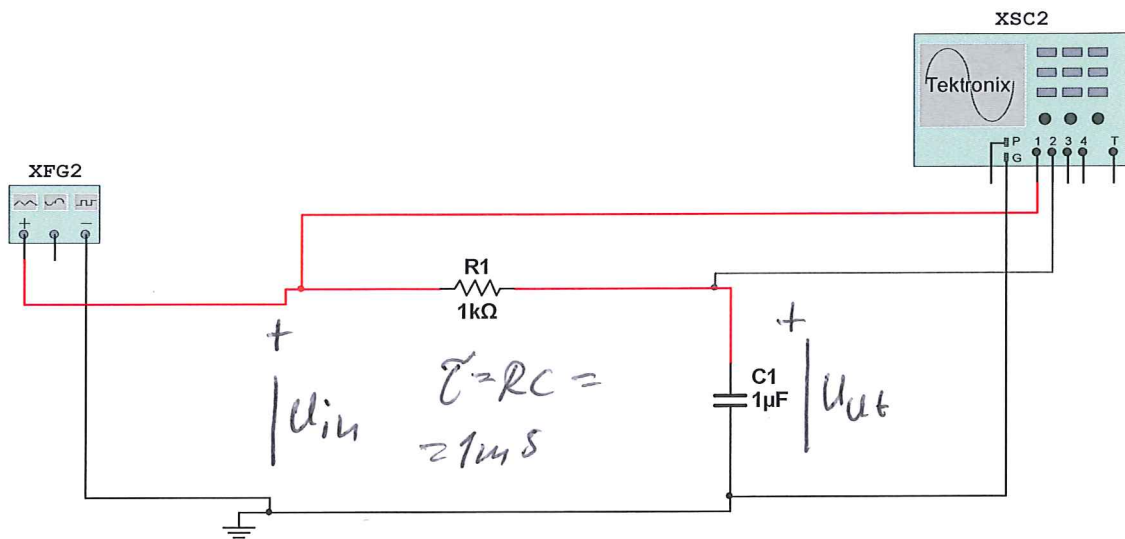
$$\frac{1}{\tau} \Rightarrow \tau = L/R$$

Efter lång tid flyter likström och därför är $\frac{di}{dt} = 0 \Rightarrow 0 + \frac{1}{\tau} i_{\infty} = \frac{1}{\tau} \frac{U}{R}$

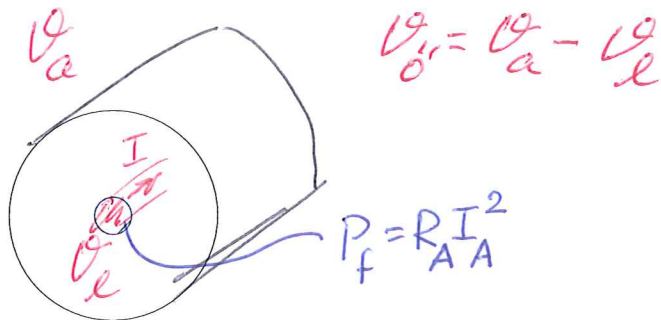
$$\Rightarrow i_{\infty} = U/R = \frac{10V}{5\Omega} = \underline{2A}$$

Strömmen kan ej ändras sprängvis ty då blir $U_L = \infty$ enl ******.

$t < 0$ är $i(t < 0) = 0$ eftersom kretsen är bruten, $\Rightarrow i_0 = 0$



medelvärde, liksom ej ändras



$$P_f = R \frac{I^2}{A}$$

R_{th} kallas termisk resistans

$$\alpha = \text{värmeövergångstalet} \left[\frac{W}{m^2 \cdot ^\circ C} \right]$$

$$c = \text{specifik värmekapacitet} \left[\frac{J}{kg \cdot ^\circ C} \right]$$

$$\frac{d\vartheta_o}{dt} + \frac{\alpha A}{mc} \vartheta_o = \frac{P_f}{\alpha A mc} \quad \text{standardlev}$$

$$\tau = \frac{mc}{\alpha A} \quad \text{slutvärde } \vartheta_{o\infty} = \frac{P_f}{\alpha A} = \underbrace{R_{th}}_{1/\alpha A} \cdot P_f$$

Förluster $P_f = R A I_A^2 = R A \left(\frac{M}{k_2 \phi} \right)^2 = K \cdot M^2$

Märkdrift

$$P_{fN} = R A I_N^2 = K \cdot M_N^2$$

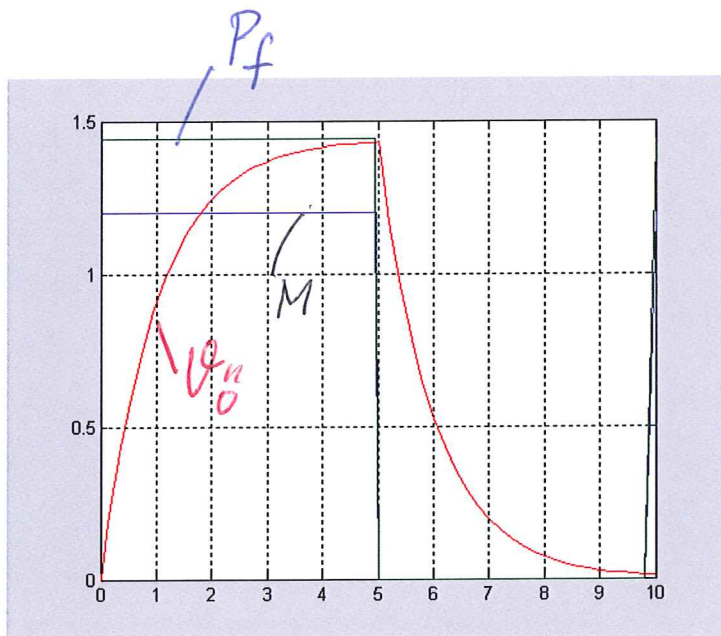
$$\vartheta_{oN} = R_{th} \cdot P_{fN}$$

Ex. 20% överlast $M = 1,2 M_N$

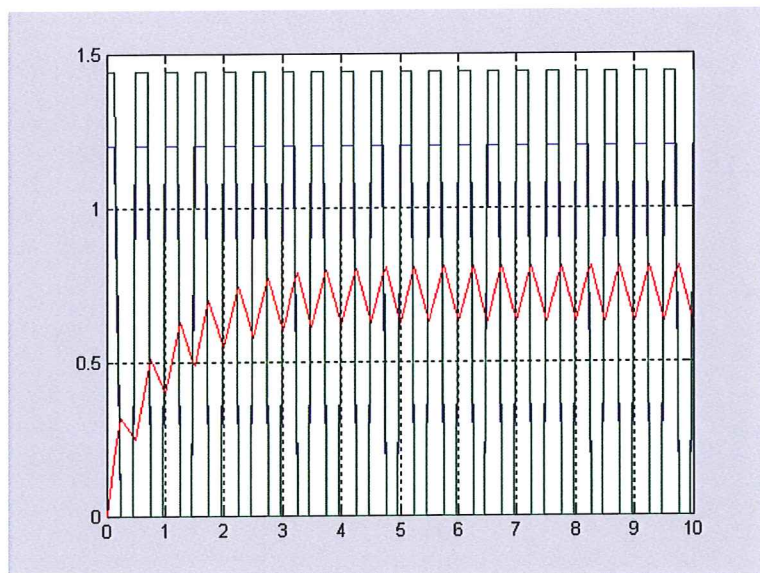
$$P_f = K \cdot (1,2 M_N)^2 = 1,44 K \cdot M_N^2 = 1,44 P_{fN}$$

$$\vartheta_{o\infty} = R_{th} \cdot 1,44 \cdot P_{fN} = 1,44 R_{th} \cdot P_{fN} =$$

$$= 1,44 \vartheta_{oN}$$



Korttidsdrift



Intermittent drift

Val av motor vid variabel last (intermittent drift) (fig 7.67)

Med intermittent drift menas att variationen i belastningsmoment mycket snabbare än den termiska tidkonstanten. Detta gör att temperaturen i motorn inte hinner ändras utan blir konstant (nästan). Den variabla belastningen därför kan "översättas" till ett konstant moment som ger samma temperaturstegring (övertemperatur). Denna översättning gör vi nedan.

Förlusteffekten antas vara proportionell mot kvadraten på momentet. Vid konstant last gäller:

$$P_f = K \cdot M_{rms}^2$$

Förlusteffekten (medelvärde) för driftcykeln blir summan av energiförlusterna delat med tiden.

$$P_{f,medel} = \frac{1}{T} W_f = \frac{1}{T} [K \cdot M_1^2 t_1 + K \cdot M_2^2 t_2 + K M_3^2 t_3 + \dots]$$

Temperaturstegringen är proportionell mot förlusteffekten. Om förlusteffekterna är lika så är även temperaturstegringarna lika.

$$P_f = P_{f,medel}$$

$$K \cdot M_{rms}^2 = \frac{K}{T} [M_1^2 t_1 + M_2^2 t_2 + M_3^2 t_3 + \dots]$$

$$M_{rms} = \sqrt{\frac{1}{T} (M_1^2 t_1 + M_2^2 t_2 + M_3^2 t_3 + \dots)}$$

se boken Ekv 7.36

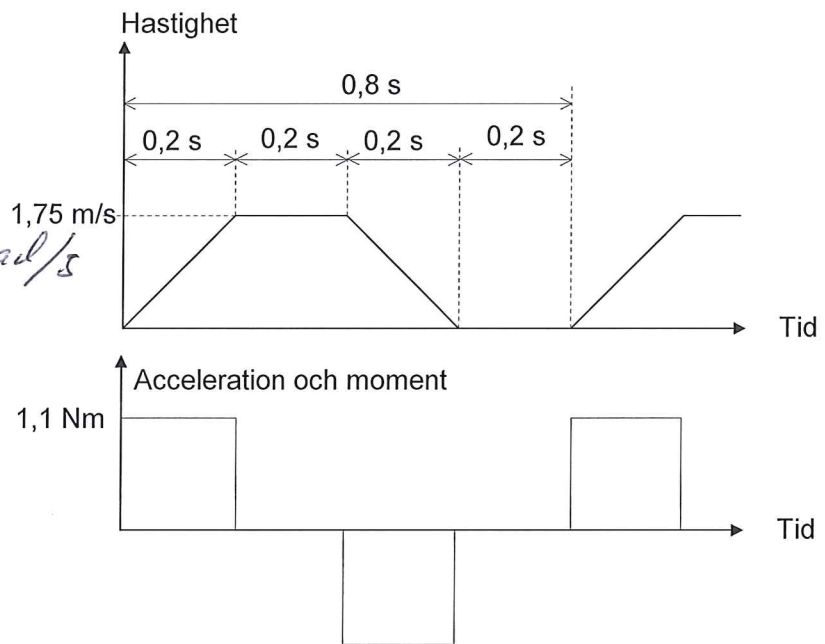
En permanentmagnetiserad synkronmotor skall, tillsammans med en linjärenhet och en servoförstärkare, användas i en röresstyrningstillämpning. Arbetet består av en arbetscykel som ska upprepas periodiskt där en detalj som väger 13,3 kg flyttas. I varje arbetscykel skall en detalj förflyttas enligt följande:

1. Förflyttning från punkt A till B (0,7 m på 0,6 s)
2. Paus i 0,2 s.

Vi väljer nedanstående hastighetsprofil och beräknar sen hastigheter och accelerationer och det moment som lasten kräver. En linjärenhet, av bandtyp, som klaras hastighets och kraftkraven väljs. Linjärenheten har "stigningen" 60 mm/varv.



$$1,75 \text{ m/s ger } 184 \text{ rad/s}$$



För att välja motor beräknar vi lastcykelns ekvivalenta moment (rms momentet, effektivvärdet).

$$M_{\text{rms}} = \sqrt{\frac{1}{0,8} (1,1^2 \cdot 0,2 + 0^2 \cdot 0,2 + (-1,1)^2 \cdot 0,2 + 0^2 \cdot 0,2)} = 0,79 \text{ Nm}$$

Vi tror därför att en motor med märkmomentet $M_N = 0,8 \text{ Nm}$ och rotorns tröghetsmoment $J_m = 0,7 \cdot 10^{-4} \text{ kgm}^2$ räcker men måste kontrollera, lite extramoment måste till för att accelerera motorns egen rotor.

Accelerationstillskottet för motorns rotor blir:

$$M = J \cdot \frac{d\omega}{dt} = 0,7 \cdot 10^{-4} \cdot \frac{184}{0,2} = 0,064 \text{ Nm}$$

För att kontrollera om motorn kan driva sin egen rotor samtidigt som den driver lasten beräknas återigen ett effektivvärdesmoment.

$$M_{\text{rms}2} = \sqrt{\frac{1}{0,8} (1,164^2 \cdot 0,2 + (-1,164)^2 \cdot 0,2)} = 0,82 \text{ Nm}$$

Välj större motor och kolla igen